

Занимательная математика.

Тема «Счет»

(подготовительный возраст)

1. Реши задачки:

- Три щенка в футбол играли, одного домой позвали. Он в окно глядит, считает, сколько их теперь играет? (2)

- Вот медведица идет, медвежат двоих ведет. Сколько здесь идет зверей? Сосчитай-ка поскорей! (3)

- Под кустами у реки, живут майские жуки: Дочка, сын, отец и мать ты их можешь сосчитать? (4)

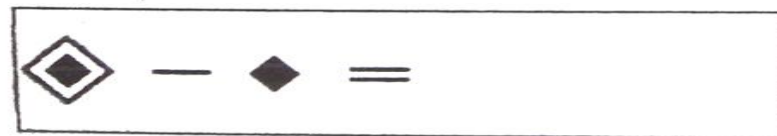
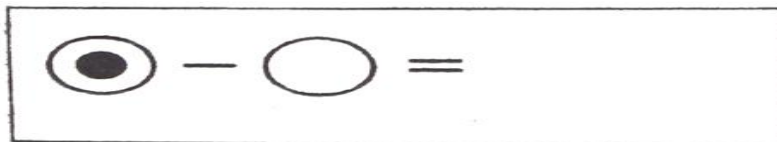
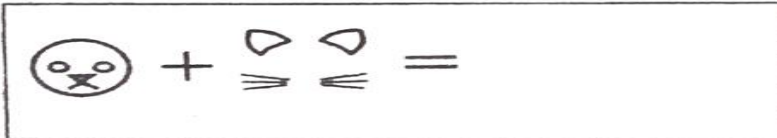
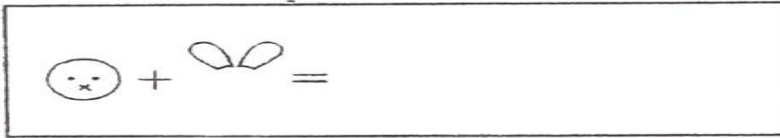
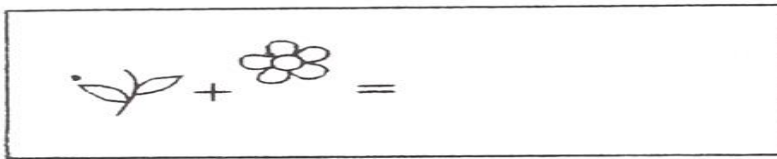
- На забор взлетел петух, повстречал еще там двух, Вы ответьте мне, ребята, сколько стало петухов? (3)

- Вот хромой идет жучок, он ранил ножку о сучок, Прежде на своих шести, очень быстро мог ползти. На скольких ножках теперь ползет жучок? (5)

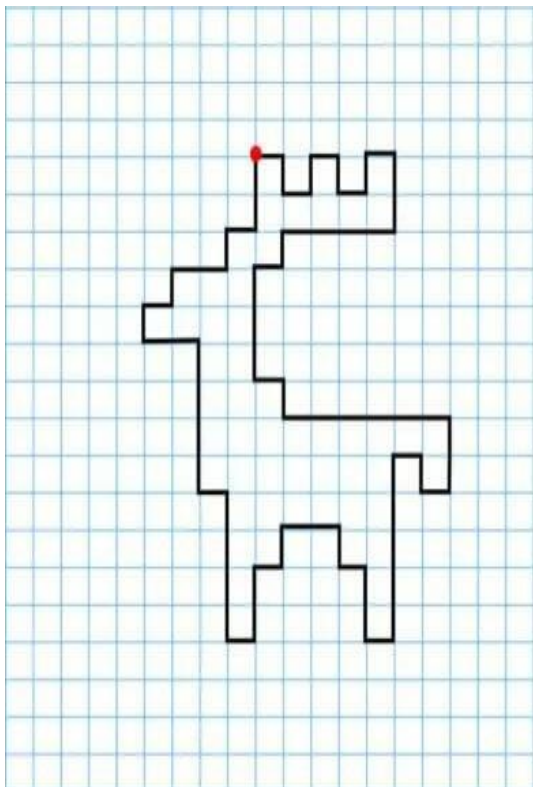
- Вот 4 зайчат по дорожке идут, за ними вдогонку 2 бегут Так сколько же всего по дорожке лесной Торопятся в школу зайчишек зимой? (6)

- Яблоки в саду поспели, мы отведать их успели Пять румяных, наливных, два с кислинкой. Сколько их? (7)

2.Сложи фигуры



3.Графический диктант.



Отступить 4 клетки вправо.

1 право; 1 низ; 1 право; 1 верх; 1 право;
1 низ; 1 право; 1 верх; 1 право; 2 низ;
4 лево; 1 низ; 1 лево; 3 низ; 1 право;
1 низ; 6 право; 2 низ; 1 лево; 1 верх;
1 лево; 5 низ; 1 лево; 2 верх; 1 лево;
1 верх; 2 лево; 1 низ; 1 лево; 2 низ; 1 лево;
4 верх; 1 лево; 4 верх; 2 лево; 1 верх;
1 право; 1 верх; 2 право; 1 верх; 1 право;
2 верх.

Расшифруй:

о	$7 - 2$	<input type="radio"/>	ц	$6 - 4$	<input type="radio"/>
л	$6 + 3$	<input type="radio"/>	м	$5 - 1$	<input type="radio"/>
е	$6 - 5$	<input type="radio"/>	д	$2 + 1$	<input type="radio"/>

4 5 9 5 3 1 2

