

# Занимательная математика

(Подготовительный возраст).

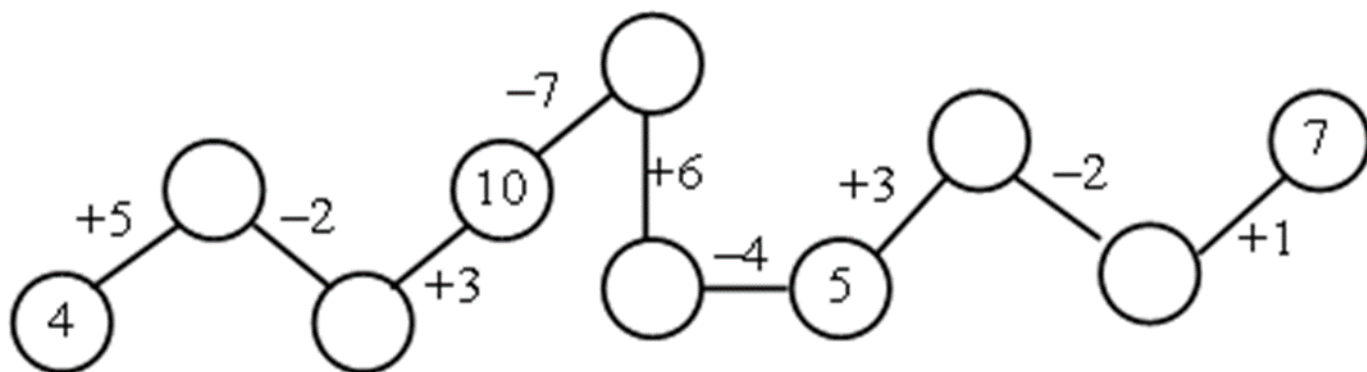
## 1.

- ✓ Вспомнить порядковый счёт от 1 до 20.
- ✓ Вспомнить обратный счёт от 15 до 1.
- ✓ Посчитайте от 5 до 10, от 9 до 15.
- ✓ Посчитайте от 15 до 10, от 13 до 6.
- ✓ Угадай число, живущее между числами 5 и 7, 4 и 6, 9 и 7, 10 и 12
- ✓ Какое число больше 5 или 6, 8 или 10,
- ✓ Какое число меньше 2 или 4, 10 или 7.

## 2. Логические задачи

- Если дерево выше куста, то куст?
- Если линейка длиннее карандаша, то карандаш?
- Если канат толще нитки, то нитка?
- Если сестра старше брата, то брат?
- Если река шире ручья, то ручей?

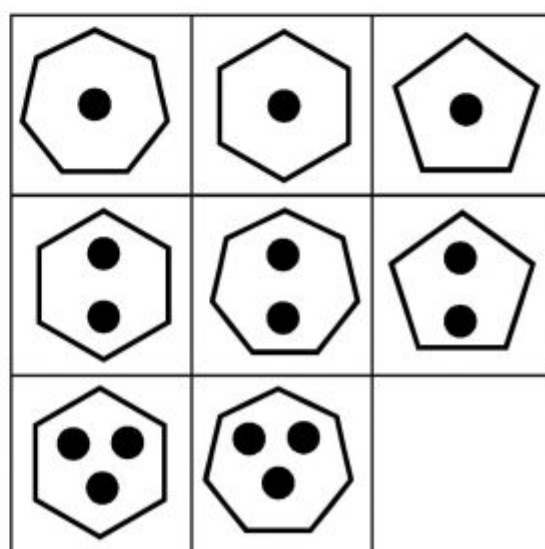
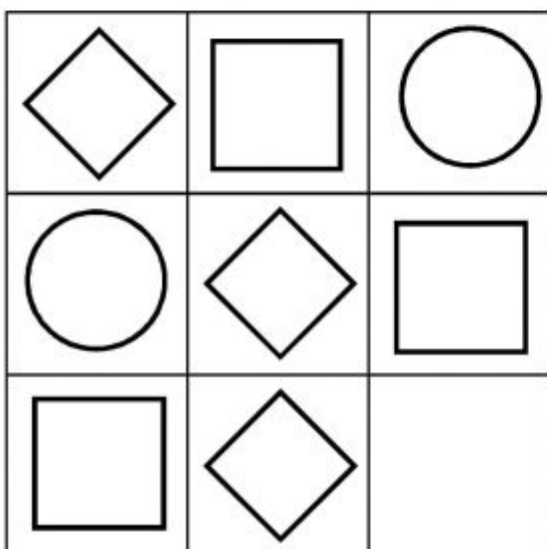
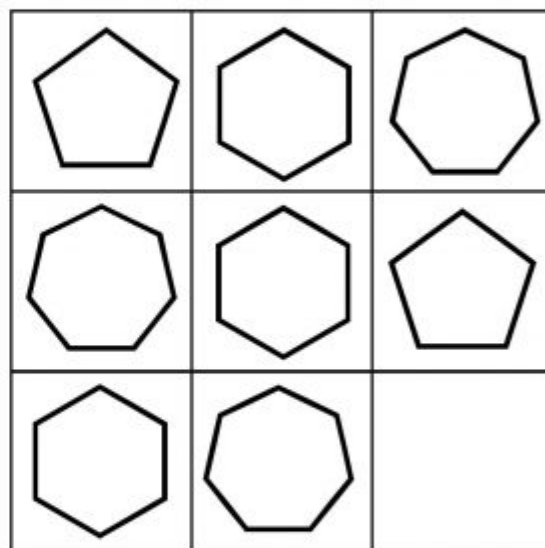
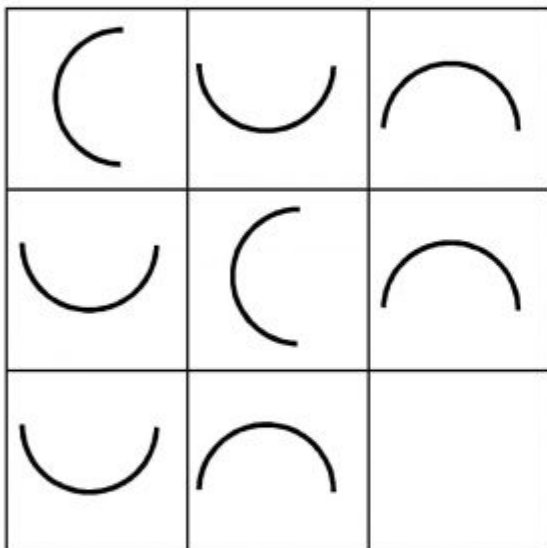
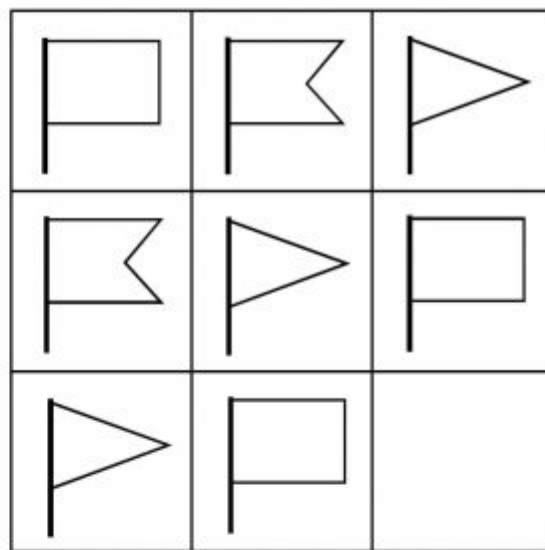
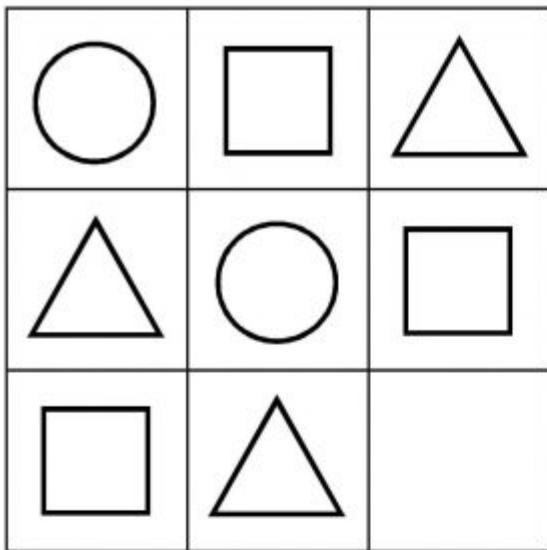
## 3. Реши цепочку из примеров



## 4. Графический диктант


1. Нарисуй синим карандашом 4 квадратика.
2. Нарисуй столько же красных треугольников, сколько лап у собаки.
3. Нарисуй столько синих палочек, сколько пальцев на левой руке.
4. Нарисуй 6 квадратов так, чтобы круг был между ними. Над кругом нарисуй крестик. Под кругом поставь точку.
5. Нарисуй розовый овал больше голубого, а голубой овал больше зелёного.

5. Дорисуй в пустую клеточку недостающую фигуру.



**\*Упражнение «Светофор».**

Нарисуй в клеточках красные, желтые и зеленые кружки так, чтобы в каждой строке и в каждом столбце не было одинаковых кружков.



**Не забудьте в конце занятия похвалить ребенка!**

