



**Занимательная математика**  
*(Подготовительный возраст).*

1. Впиши в числовой ряд недостающие цифры.



2. Напиши, сколько время показывают часы



:
---



:
---



:
---



:
---




:
---



:
---



:
---



:
---

3. Вставь пропущенные цифры или знаки и реши примеры.

$$2 + \square = 10$$

$$8 - \square = 2$$

$$\square + 5 = 9$$

$$7 \square 4 = 3$$

$$10 - \square = 7$$

$$5 \square 5 = 10$$

$$4 - 4 = \square$$

$$1 + 6 = \square$$

$$9 - \square = 7$$

$$10 \square 1 = 9$$

$$4 \square 4 = 8$$

$$\square - \square = 0$$

$$10 - 5 = \square$$

$$5 \square 2 = 7$$




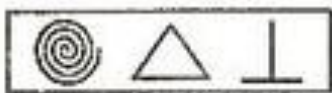
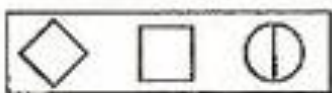
$$3 \square 4 = 7$$

$$10 \square 6 = 4$$

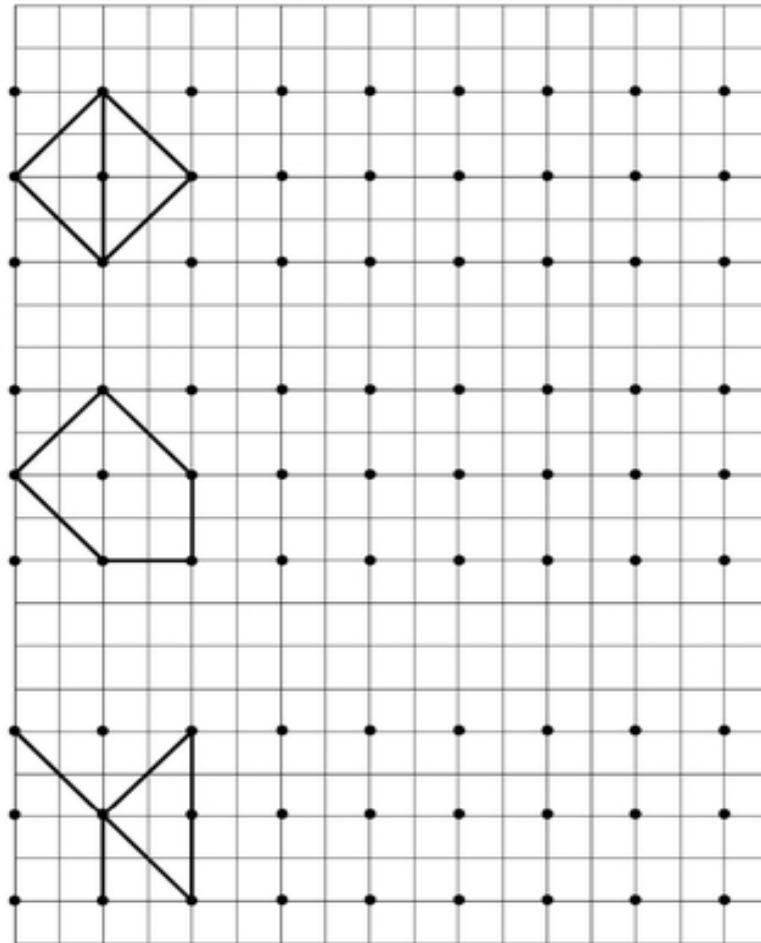
$$\square + 0 = 8$$

$$8 \square 5 = 3$$

4. Расположи рисунки в прямоугольниках, каждый раз в новой последовательности.



5. Нарисуй по точкам



МОЛОДЕЦ!